

Twoje imię i nazwisko, klasa

1. Napisz, co jest twoim marzeniem.

2. Zapisz, którą godzinę wskazują zegary.

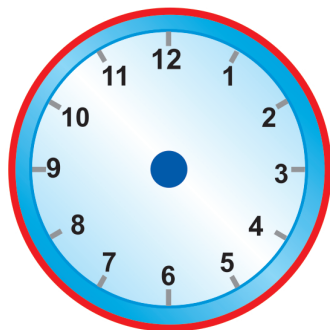




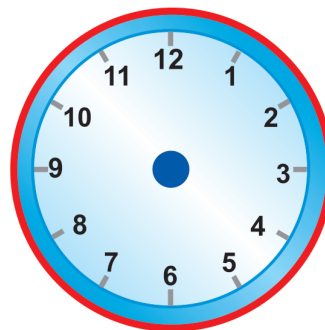


3. Narysuj wskazówki na zegarach na podstawie zadania.

Jaś wyszedł na dwór o godzinie 16.00. Wrócił do domu po 2 godzinach i 30 minutach. O której godzinie Jaś wrócił do domu?




wyjście na dwór



powrót do domu

Twoje imię i nazwisko, klasa

1. Sprawdź, jakie laurki przygotowały dzieci na Dzień Matki. Odpowiedz na pytania. Podkreśl w odpowiedziach czasowniki.



Kto narysował dla mamy słońce?

Co narysowała dla mamy Ewa?

Jaką laurkę dla mamy przygotował Piotrek?

Twoje imię i nazwisko, klasa

1. Oblicz. Uszereguj wyniki rosnąco i wpisz odpowiadające im litery. Wykorzystaj hasło i uzupełnij zdanie pod tabelką.

$24 : 6 = \begin{array}{|c|c|} \hline & R \\ \hline \end{array}$

$30 : 5 = \begin{array}{|c|c|} \hline & D \\ \hline \end{array}$

$18 : 2 = \begin{array}{|c|c|} \hline & K \\ \hline \end{array}$

$25 : 5 = \begin{array}{|c|c|} \hline & O \\ \hline \end{array}$

$12 : 4 = \begin{array}{|c|c|} \hline & G \\ \hline \end{array}$

$14 : 7 = \begin{array}{|c|c|} \hline & O \\ \hline \end{array}$

$24 : 3 = \begin{array}{|c|c|} \hline & I \\ \hline \end{array}$

$21 : 3 = \begin{array}{|c|c|} \hline & N \\ \hline \end{array}$

Liczby			4					
Litery					D			

_____ w swojej pracy wykorzystuje narzędzia:

2. Napisz, jakie prace należy wykonać wiosną w ogrodzie.

Twoje imię i nazwisko, klasa

1. Zdania prawdziwe oznacz literą **P**, a fałszywe – literą **F**.

Polska nie jest państwem członkowskim Unii Europejskiej.

Euro to waluta europejska.

Oda do radości to hymn Unii Europejskiej.

Na fladze Unii Europejskiej jest 12 słońc.

2. Wymień 6 zwiastunów wiosny.




3. Zapisz podane wyrazy w kolejności alfabetycznej.

tęcza • kwiat • rosa • słońce • wiosna • trawa • niebo • deszcz

4. Podziel elementy po tyle, ile wskazuje liczba i napisz działania.

Po 6 

Po 4 

Po 5 

5. Rozwiąż zadanie.

W sklepie z zabawkami było 21 pluszowych misiów.

Dzieci kupiły po 3 pluszaki. Ile dzieci kupowało misie?

● Podziel po 3, oblicz i zapisz odpowiedź.



Odp.: _____

